

Examenul de bacalaureat național 2020
Proba E. d)
Geografie

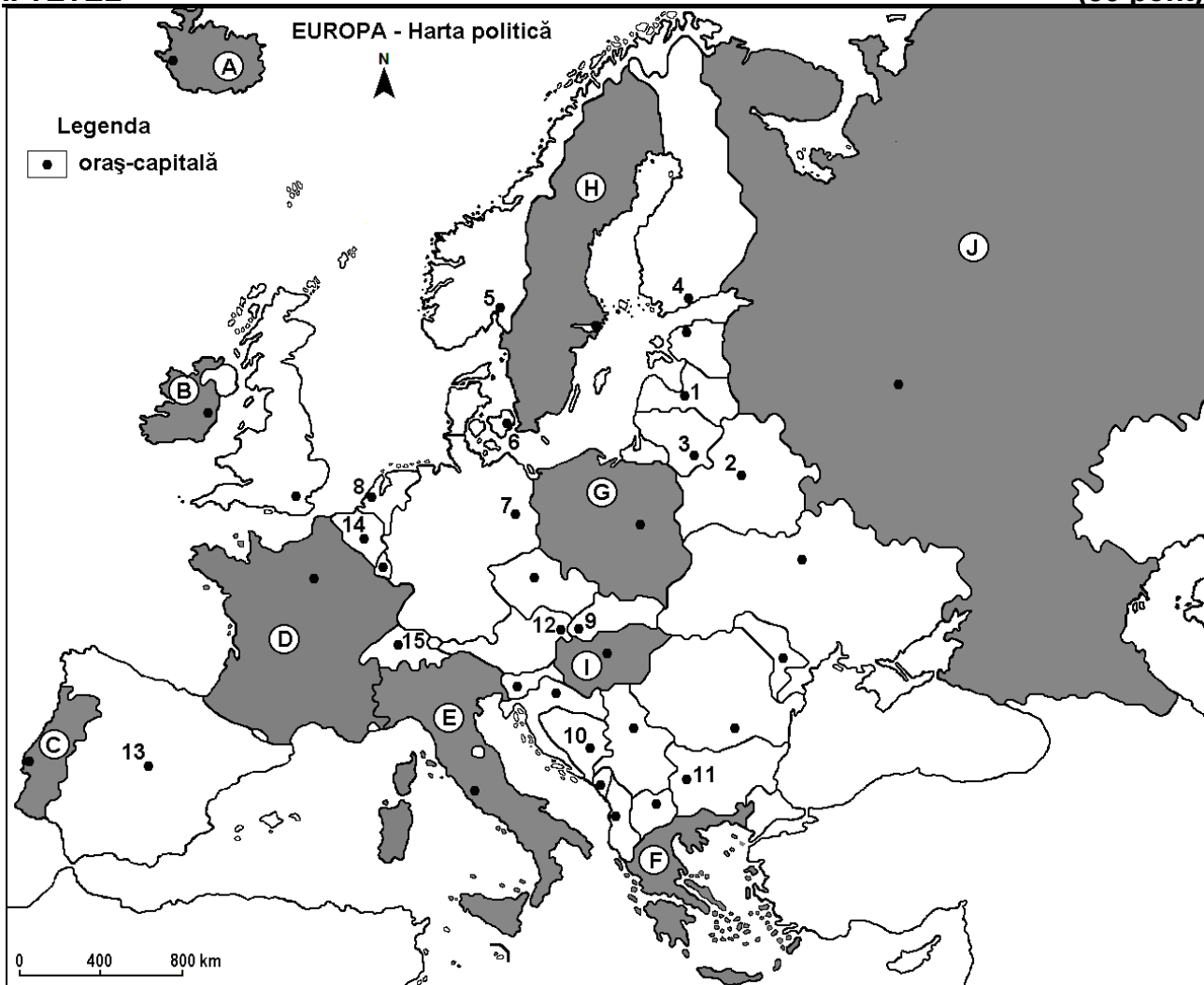
Test 14

Profilul umanist din filiera teoretică, profilul servicii din filiera tehnologică și toate profilurile și specializările din filiera vocațională, cu excepția profilului militar

- **Minden tétel kötelező. Hivatalból 10 pont jár.**
- **Munkaidő 3 óra.**

I. TÉTEL

(30 pont)



A fenti térkép az I.Tétel A - D pontjaira vonatkozik. A térképen az országokat betűk, a fővárosokat számok jelölik.

A. Írjátok le:

1. a térképen **H** betűvel jelölt ország nevét;
2. a térképen **10**-es számmal jelölt főváros nevét.

4 pont

B. Írjátok a vizsgalpra az alábbi mondatokat kiegészítő helyes válaszokat:

1. A térképen **15**-ös számmal jelölt város a következő ország fővárosa...
2. A térképen **B** betűvel jelölt ország neve....
3. A térképen **1**-es számmal jelölt város neve...

6 pont

C. Írjátok a vizsgalpra a helyes válasz betűjelét mindegyik kijelentésre vonatkozóan:

1. A térképen 3-as számmal jelölt város az alábbi ország fővárosa:
a. Észtország b. Finnország c. Lettország d. Litvánia **2 pont**
2. A térképen az alábbi betűvel jelölt ország része a Kola-félsziget:
a. B b. F c. H d. J **2 pont**
3. Styepi növényzet (puszta) jellemző a térképen az alábbi betűvel jelölt országra:
a. A b. B c. C d. I **2 pont**
4. Számos gleccsertó alakult ki annak az országnak az északi részén, amelyet térképen az alábbi betű jelöl:
a. B b. C c. G d. I **2 pont**
5. Jelentős vasércbányával rendelkező országot jelöl a térképen az alábbi betű:
a. B b. C c. I d. J **2 pont**

D. Írjatok két hasonlóságot és egy különbséget a térképen a D és E betűkkel jelölt országok éghajlatára vonatkozóan.

1 Megjegyzés: A hasonlóságok és a különbség a következő éghajlati elemek bármelyikére vonatkozhatnak: éghajlati tényezők, éghajlati típus, évi/nyári/téli középhőmérsékletek, hőmérsékleti amplitúdó, évi/nyári/téli átlagos csapadék, gyakori szelek.

2 Megjegyzés: A teljes pontszám csak abban az esetben adható meg, ha a különbségek összehasonlításképpen és nem külön-külön vannak leírva.

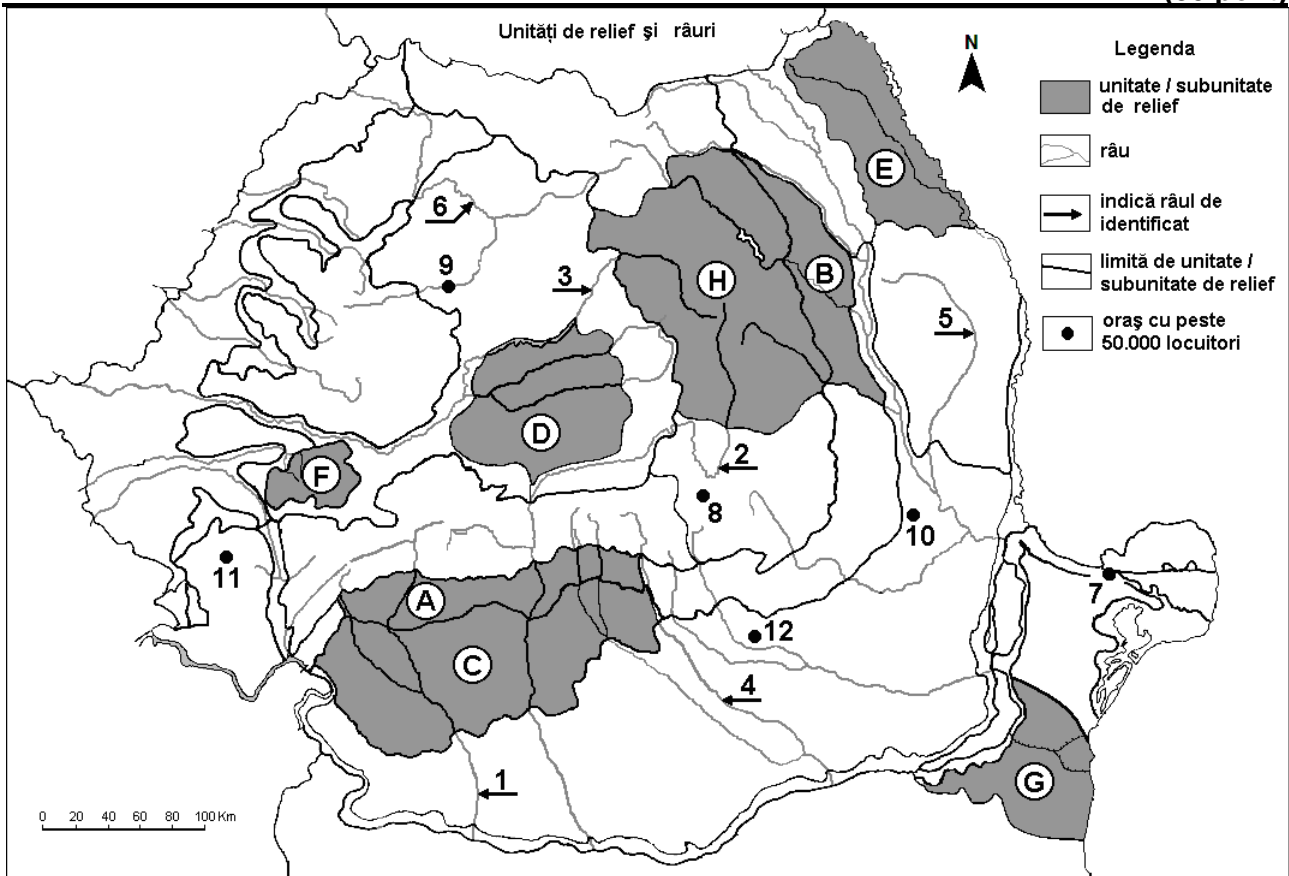
6 pont

E. Mutassatok be két okot, amelyek következtében a Skandináv-félsziget országaiban alacsony a népsűrűség (20 lak./km² alatt).

4 pont

II. TÉTEL

(30 pont)



A fenti térkép a II. Tétel A - D pontjaira vonatkozik. A térképen a domborzati egységeket betűk, a folyókat 1-től 6-ig, a városokat 7-től 12-ig számok jelölik.

A. Írjátok le:

1. a térképen 8-as számmal jelölt város nevét;
2. a térképen 1-es számmal jelölt folyó nevét.

4 pont

B. Írjátok a vizsgalatra az alábbi mondatokat kiegészítő helyes válaszokat:

1. A várost, amelyen a Kis-Szamos áthalad, a térképen a következő szám jelöli...
2. A térképen 2-es számmal jelölt folyó neve...
3. A térképen 11-es számmal jelölt város neve...

6 pont

C. Írjátok a vizsgalapra a helyes válasz betűjelét mindegyik kijelentésre vonatkozóan:

1. A térképen 4-es számmal jelölt folyó áthalad az alábbi városon:
a. Bukarest b. Pitești c. Ploiești d. Târgoviște 2 pont
2. „Dóm” típusú szerkezet jellemzi a térképen az alábbi betűvel jelölt domborzati egységet:
a. C b. D c. E d. H 2 pont
3. A térképen G betűvel jelölt domborzati egységre jellemző az alábbi éghajlati hatás:
a. balti b. óceáni c. pontuszi d. szubmediterrán 2 pont
4. Legkisebb tengerszint feletti magasságon található az alábbi számmal jelölt város:
a. 7 b. 8 c. 9 d. 11 2 pont
5. A fenyőerdők szintje nagy területeket foglal el a térképen az alábbi betűvel jelölt domborzati egységen:
a. B b. C c. G d. H 2 pont

D. Írjátok egy hasonlóságot és két különbséget a térképen A és C betűkkel jelölt tájegységek domborzata között.

1 **Megjegyzés:** A hasonlóság és a különbségek a domborzat következő jellemzőire vonatkozhatnak: kialakulási mód, közzettani felépítés, tengerszint feletti magasságok, tagoltság, domborzati típusok, a hegységek és a fontosabb völgyek iránya, a medencék elhelyezkedése, lejtők dőlése, más domborzati jellemzők.

2 **Megjegyzés:** A teljes pontszám csak abban az esetben adható meg, ha a különbségek összehasonlítóképpen és nem külön-külön vannak leírva.

6 pont

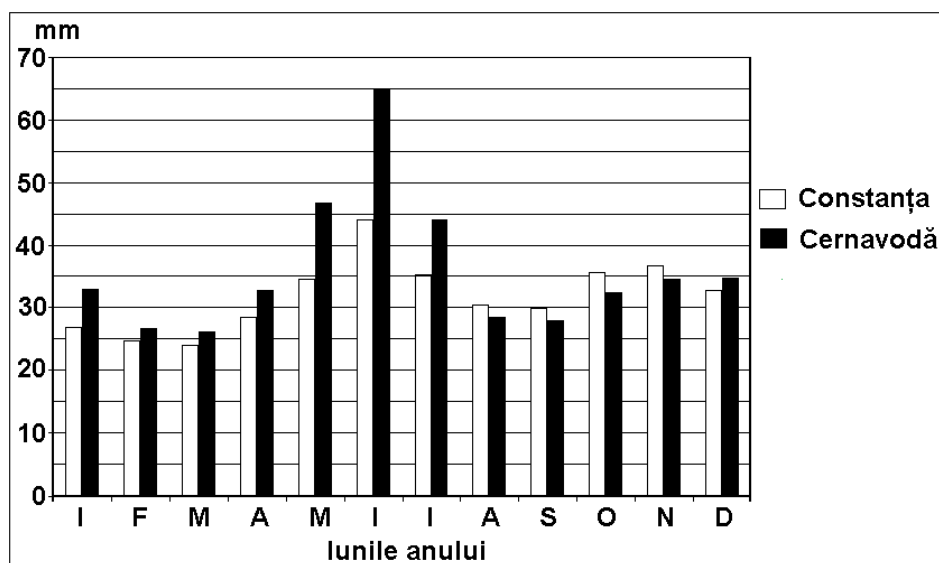
E. Magyarazzátok meg, két érv alapján, az erdőalap fontosságát Románia számára.

4 pont

III. TÉTEL

(30 pont)

Az alábbi grafikon a III. Tétel A - B pontjaira vonatkozik és Konstanca/Constanța (32 m tengerszint feletti magasság), illetve Cernavodă (44 m tengerszint feletti magasság) meteorológiai állomásainak átlagos havi csapadékmennyiségét ábrázolja.



Lunile anului – az év hónapjai

A. Írjátok le:

1. mennyi a Cernavodă-i állomás átlagos havi csapadékának maximális értéke és melyik hónapban jegyezték;

2. mennyi a konstancai állomás átlagos havi csapadékának minimális értéke és melyik hónapban jegyezték; **4 pont**

B. 1. Számítsátok ki és írjátok le, mennyi az átlagos havi csapadékmennyiség **különbsége** a két állomás között júliusban.

2. Mutassatok be két okot, amelyek következtében alacsony az átlagos évi csapadékmennyiség a két állomáson: Cernavodă (427 mm/év) és Constanța (378 mm/év). **6 pont**

C. A Déli-Kárpátok Dâmbovița és Olt közötti részére (Bucsecs-csoport és Fogaras-csoport) vonatkozóan, írjátok le/nevezzétek meg:

1. a domborzati egység nevét, amellyel északon szomszédos;
2. kialakulásának módját;
3. két közettípust;
4. legmagasabb csúcsának magasságát és nevét;
5. két tótypust;
6. egy természeti erőforrást/kincset;
7. egy magashegységi műút nevét, amely ezen áthalad.

10 pont

D. Az alábbi táblázat három európai ország foglalkoztatott lakosságának tevékenységi szerkezetét mutatja be 2009-ben.

	Mezőgazdaság (%)	Ipar (%)	Szolgáltatások (%)
Belgium	2	25	73
Bulgária	x	35,2	57,7
Görögország	12,4	22,4	x

Sursa: The World Factbook 2010

1. Számítsátok ki, mennyi a mezőgazdaságban foglalkoztatott lakosság aránya Bulgáriában.
2. Számítsátok ki, mennyi a szolgáltatásokban foglalkoztatott lakosság aránya Görögországban.
3. Magyarazzátok meg a szolgáltatásokban foglalkoztatottak magas arányát Belgiumban.

6 pont

E. Két érv alapján bizonyítsátok be, hogy Olaszország jelentős turisztikai potenciállal rendelkezik.

4 pont